

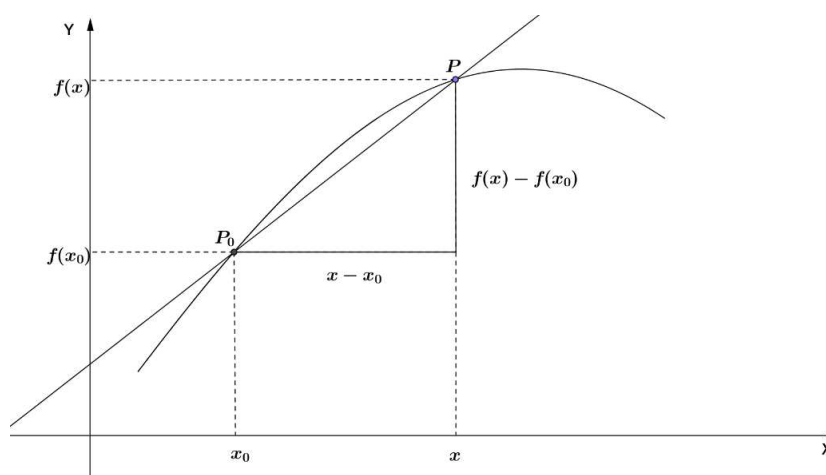
Derivate

Definizione di derivata di $f(x)$ in $x_0 \in D_f$

Considero una funzione $f(x)$ e sia $x_0 \in D_f$ e $f(x)$ definita in un intorno completo di x_0 .

Consideriamo il rapporto (detto rapporto “incrementale”)

$$\frac{f(x) - f(x_0)}{x - x_0} \quad (x \in I_{x_0})$$



È evidente che il rapporto incrementale (cioè degli “incrementi” Δf e Δx) rappresenta il coefficiente angolare della retta P_0P (vedi figura).

Diciamo che $f(x)$ è derivabile in x_0 se **esiste finito**

$$\lim_{x \rightarrow x_0} \frac{f(x) - f(x_0)}{x - x_0}$$

Questo limite sarà indicato con $f'(x_0)$ ed è detto derivata di $f(x)$ in x_0 .

NOTA 1: la derivata in x_0 può essere indicata anche come

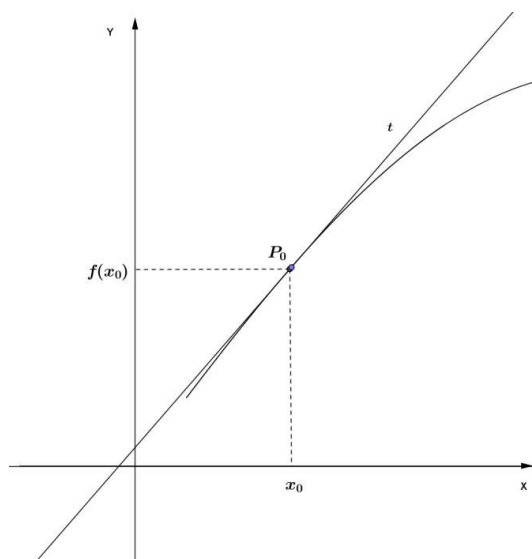
$$\left[\frac{df}{dx} \right]_{x=x_0} \quad \text{o} \quad [Df(x)]_{x=x_0}$$

NOTA 2: il rapporto incrementale può essere anche scritto così:

$$\frac{f(x_0+h) - f(x_0)}{h} \quad \text{e calcolare quindi} \quad \lim_{h \rightarrow 0} \frac{f(x_0+h) - f(x_0)}{h}$$

Interpretazione geometrica

Poiché il rapporto incrementale rappresenta il coefficiente angolare della retta PP_0 e poiché per $x \rightarrow x_0$ si ha $P \rightarrow P_0$ e la retta $PP_0 \rightarrow$ retta tangente in P_0 si ha che



$$f'(x_0) = \lim_{x \rightarrow x_0} \frac{f(x) - f(x_0)}{x - x_0} = m_t$$

dove m_t rappresenta il coefficiente angolare della retta tangente in $P_0(x_0; f(x_0))$.

Poiché nella definizione di $f'(x_0)$ abbiamo chiesto che il limite sia finito non si considererà derivabile in x_0 una funzione che abbia in $P_0(x_0; f(x_0))$ la tangente al grafico parallela all'asse y.

Esempi

1. Consideriamo $y = x^2$ e $x_0 = 1$ ($f(x_0) = 1$)

Calcoliamo

$$\lim_{x \rightarrow 1} \frac{x^2 - 1}{x - 1} = \lim_{x \rightarrow 1} \frac{(x - 1)(x + 1)}{(x - 1)} = \lim_{x \rightarrow 1} (x + 1) = 2$$

Quindi $f'(1) = m_t = 2$.

La retta tangente avrà equazione

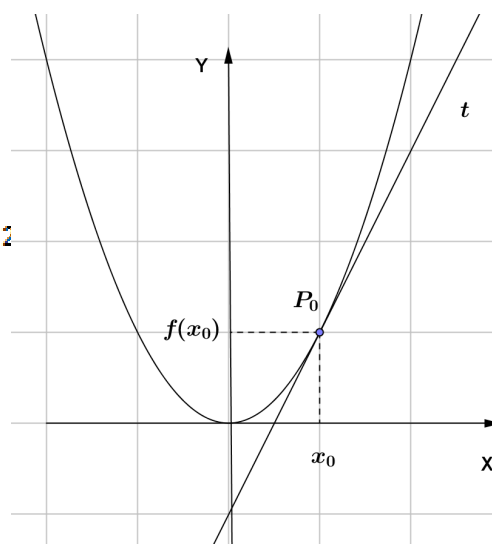
$$t: y - 1 = 2(x - 1) \rightarrow y = 2x - 1$$

Proviamo a verificare che l'equazione della tangente

sia proprio $y = 2x - 1$: possiamo applicare il "vecchio" metodo del fascio di rette per $P_0(1; 1)$ e intersecare con $y = x^2$ imponendo che $\Delta = 0$.

$$\begin{cases} y - 1 = m(x - 1) \\ y = x^2 \end{cases} \quad \begin{cases} x^2 - 1 = m(x - 1) \\ y = x^2 \end{cases} \quad \begin{cases} x^2 - mx + m - 1 = 0 \\ y = x^2 \end{cases}$$

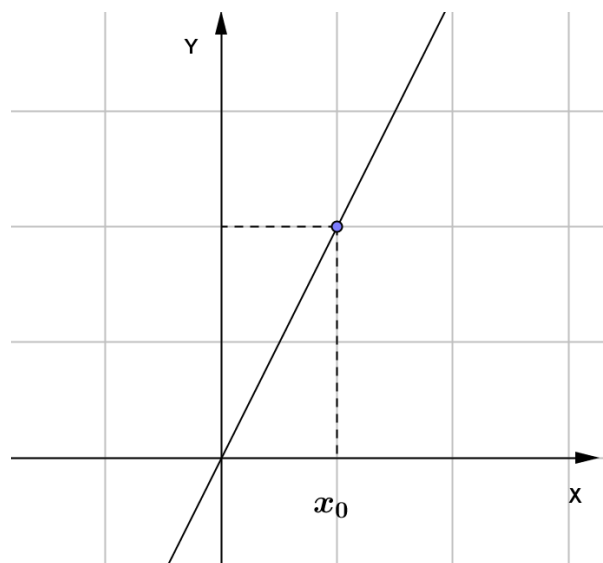
$$\Delta = m^2 - 4(m - 1) = 0 \rightarrow m^2 - 4m + 4 = 0 \rightarrow (m - 2)^2 = 0 \rightarrow m = 2$$



2. Consideriamo $y = 2x$ e $x_0 = 1$ ($f(x_0) = 2$).

Calcoliamo:

$$\lim_{x \rightarrow 1} \frac{2x - 2}{x - 1} = \lim_{x \rightarrow 1} \frac{2(x - 1)}{x - 1} = 2$$



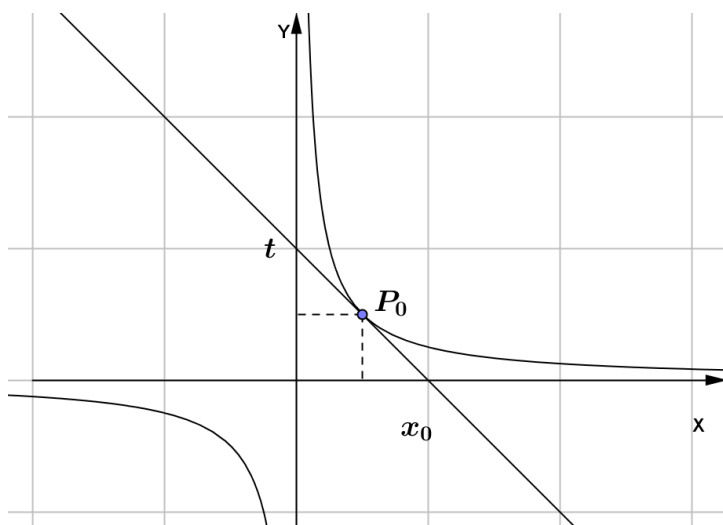
Osserviamo che se considero in generale x_0 ottengo lo stesso risultato:

$$\lim_{x \rightarrow x_0} \frac{2x - 2x_0}{x - x_0} = \lim_{x \rightarrow x_0} \frac{2(x - x_0)}{x - x_0} = 2$$

È chiaro che nel caso in cui il grafico sia una retta, la tangente coincide con il grafico in ogni punto x_0 e quindi $f'(x_0) = 2 \quad \forall x_0 \in \mathbb{R}$.

3. Consideriamo $y = \frac{1}{x}$ e $x_0 = 1$ ($f(x_0) = 1$)

$$\lim_{x \rightarrow 1} \frac{\frac{1}{x} - 1}{x - 1} = \lim_{x \rightarrow 1} \frac{\frac{1 - x}{x}}{x - 1} = \lim_{x \rightarrow 1} -\frac{x - 1}{x(x - 1)} = -1$$



ESERCIZI
DEFINIZIONE DI DERIVATA

Calcola $f'(x_0)$ per le seguenti funzioni ,disegna G_f e la tangente t al grafico in $(x_0; f(x_0))$:

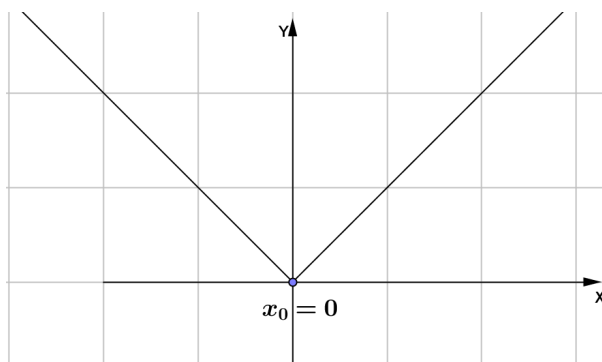
1. $f(x) = 3x - 1$ $x_0 = 0$ $[f'(0) = 3]$
2. $f(x) = 4x^2$ $x_0 = 1$ $[f'(1) = 8]$
3. $f(x) = 1 - x^2$ $x_0 = 0$ $[f'(0) = 0]$
4. $f(x) = \frac{2}{x}$ $x_0 = 1$ $[f'(1) = -2]$
5. $f(x) = \frac{1}{x-2}$ $x_0 = 1$ $[f'(1) = -1]$
6. $f(x) = 3$ $x_0 = 4$ $[f'(1) = 0]$
7. $f(x) = x^3$ $x_0 = 2$ $[f'(2) = 12]$
8. $f(x) = \frac{x-1}{x}$ $x_0 = 1$ $[f'(1) = 1]$
9. $f(x) = \frac{2x-3}{x}$ $x_0 = 1$ $[f'(1) = 3]$
10. $f(x) = 2 - x^3$ $x_0 = 1$ $[f'(1) = -3]$
11. $f(x) = x^2 - 1$ $x_0 = -1$ $[f'(-1) = -2]$
12. $f(x) = 5x + 2$ $x_0 = 3$ $[f'(3) = 5]$
13. $f(x) = \frac{1}{x}$ $x_0 = 2$ $[f'(2) = -\frac{1}{4}]$
14. $f(x) = -5$ $x_0 = 0$ $[f'(0) = 0]$
15. $f(x) = x^2$ $x_0 = 3$ $[f'(3) = 6]$

Complemento PUNTI DI NON DERIVABILITA'

Se una funzione è derivabile in x_0 per quello che abbiamo visto è necessariamente continua ma non è detto che una funzione continua in x_0 sia anche derivabile in x_0 cioè sia possibile tracciare la tangente al grafico in $(x_0; f(x_0))$. Vediamo quali possono essere i punti di non derivabilità.

1. a) Consideriamo $f(x) = |x|$ e $x_0 = 0$ ($f(x_0) = 0$)

$$f(x) = \begin{cases} x & \text{se } x \geq 0 \\ -x & \text{se } x < 0 \end{cases}$$



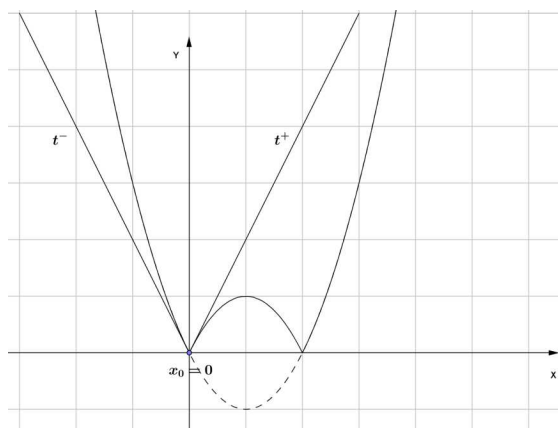
Il limite destro e sinistro del rapporto incrementale sono diversi:

$$\lim_{x \rightarrow 0^+} \frac{f(x) - f(x_0)}{x - x_0} = \lim_{x \rightarrow 0^+} \frac{x}{x} = 1$$

$$\lim_{x \rightarrow 0^-} \frac{f(x) - f(x_0)}{x - x_0} = \lim_{x \rightarrow 0^-} \frac{-x}{x} = -1$$

Quindi non esiste il limite del rapporto incrementale poiché il limite destro è diverso dal limite sinistro: è come se avessimo due tangenti in $P_0(x_0; f(x_0))$, una “destra” e una “sinistra” con inclinazioni m_1 e m_2 e x_0 si dice **punto angoloso**.

b) Vediamo un altro esempio di punto angoloso: consideriamo $f(x) = |x^2 - 2x|$ e $x_0 = 0$ ($f(0) = 0$)



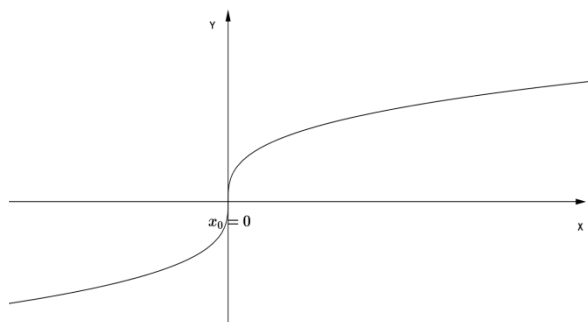
Ricorda che per tracciare il grafico di $f(x)$ prima si disegna la parabola $y = x^2 - 2x$ e poi si ribalta rispetto all'asse x la parte negativa.

Anche in questo caso abbiamo un punto angoloso in x_0 poiché:

$$\lim_{x \rightarrow 0^-} \frac{f(x) - f(0)}{x} = \lim_{x \rightarrow 0^-} \frac{x^2 - 2x}{x} = \lim_{x \rightarrow 0^-} \frac{x(x - 2)}{x} = -2 \quad (m_{t^-})$$

$$\lim_{x \rightarrow 0^+} \frac{f(x) - f(0)}{x} = \lim_{x \rightarrow 0^+} \frac{-(x^2 - 2x)}{x} = \lim_{x \rightarrow 0^+} \frac{-x(x - 2)}{x} = 2 \quad (m_{t^+})$$

2. Consideriamo $f(x) = \sqrt[3]{x}$ in $x_0 = 0$ ($f(0) = 0$).

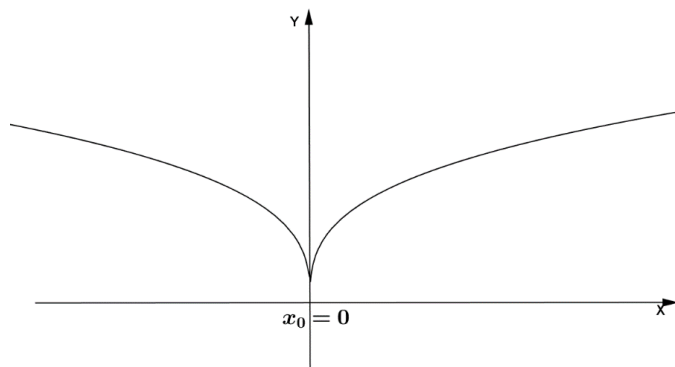


$$\lim_{x \rightarrow 0} \frac{f(x) - f(0)}{x} = \lim_{x \rightarrow 0} \frac{\sqrt[3]{x}}{x} = \lim_{x \rightarrow 0} \frac{1}{\sqrt[3]{x^2}} = +\infty$$

In questo caso, il limite del rapporto incrementale esiste ma è infinito: la tangente in $P_0(x_0; f(x_0))$ al grafico è parallela all'asse delle y (nel nostro caso coincide con l'asse delle y). Diremo perciò che $y = \sqrt[3]{x}$ non è derivabile in $x_0 = 0$.

Un punto di non derivabilità di questo tipo si chiama “**punto a tangente verticale**”.

3. Consideriamo $f(x) = |\sqrt[3]{x}|$ in $x_0 = 0$ ($f(0) = 0$).



$$\text{Poiché } f(x) = \begin{cases} \sqrt[3]{x} & \text{quando } x \geq 0 \\ -\sqrt[3]{x} & \text{quando } x < 0 \end{cases}$$

Il limite destro e sinistro sono diversi:

$$\lim_{x \rightarrow 0^+} \frac{f(x) - f(0)}{x} = \lim_{x \rightarrow 0^+} \frac{\sqrt[3]{x}}{x} = \lim_{x \rightarrow 0^+} \frac{1}{\sqrt[3]{x^2}} = +\infty$$

$$\lim_{x \rightarrow 0^-} \frac{f(x) - f(0)}{x} = \lim_{x \rightarrow 0^-} \frac{-\sqrt[3]{x}}{x} = \lim_{x \rightarrow 0^-} \frac{-1}{\sqrt[3]{x^2}} = -\infty$$

Quindi anche in questo caso il limite esiste e i limiti destro e sinistro sono uno $+\infty$ e l'altro $-\infty$: diciamo che x_0 è una “**cuspid**”.

Funzione derivata

La funzione che associa $x \rightarrow f'(x)$ viene detta **funzione derivata** di $f(x)$ ed indicata con

$$f'(x) \text{ o } Df(x) \text{ o } \frac{df}{dx} \text{ (notazione di Leibniz)}$$

Esempio

Consideriamo $f(x) = x^2$.

Calcoliamo il limite del rapporto incrementale lasciando come variabile x_0 :

$$f'(x_0) = \lim_{x \rightarrow x_0} \frac{f(x) - f(x_0)}{x - x_0} = \lim_{x \rightarrow x_0} \frac{x^2 - x_0^2}{x - x_0} = \lim_{x \rightarrow x_0} \frac{(x - x_0)(x + x_0)}{(x - x_0)} = \lim_{x \rightarrow x_0} x + x_0 = 2x_0$$

Quindi $x \xrightarrow{f'} 2x$ e possiamo scrivere:

$$f'(x) = 2x \text{ o } D(x^2) = 2x$$

Se dobbiamo quindi calcolare, per esempio, la derivata di $f(x) = x^2$ in $x_0 = 3$ non dovremo far altro che sostituire $x = 3$ in $f'(x) = 2x$ cioè $f'(3) = 6$.

Quindi conoscere $f'(x)$ mi permette di calcolare la derivata di $f(x)$ in qualsiasi punto x_0 semplicemente con una sostituzione.

Dobbiamo quindi, per prima cosa, determinare le funzioni derivate delle funzioni elementari.

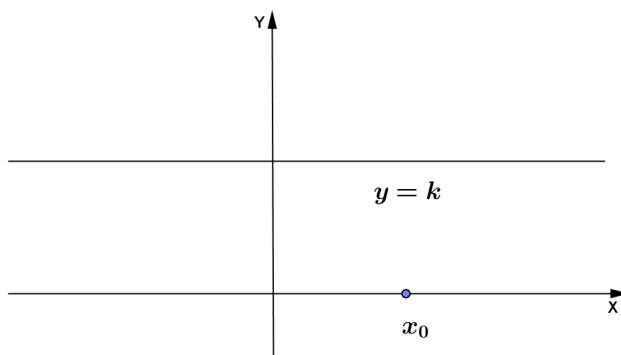
Derivate delle funzioni elementari

- Derivata di $f(x) = k$ (funzione costante)

$$\lim_{x \rightarrow x_0} \frac{f(x) - f(x_0)}{x - x_0} = \lim_{x \rightarrow x_0} \frac{k - k}{x - x_0} = 0$$

Quindi $D(k) = 0$

Infatti il grafico di $y = k$ è una retta parallela all'asse x e in ogni x_0 la tangente coincide con il grafico e quindi ha coefficiente angolare $m = 0$.



- Derivata di $f(x) = x$

$$\lim_{x \rightarrow x_0} \frac{f(x) - f(x_0)}{x - x_0} = \lim_{x \rightarrow x_0} \frac{x - x_0}{x - x_0} = 1$$

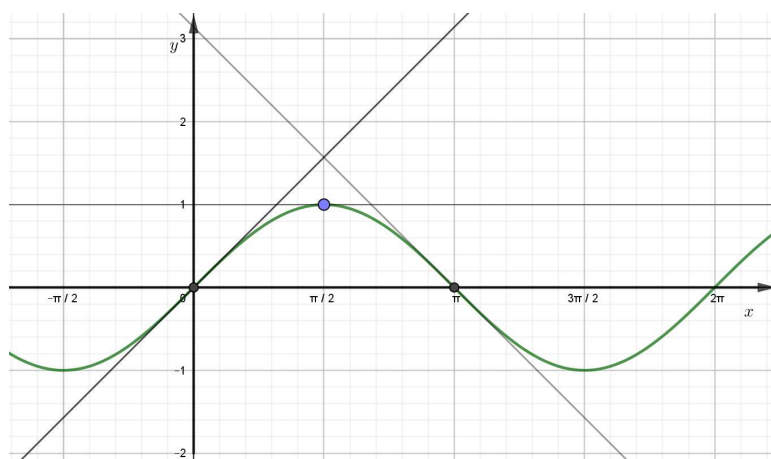
Quindi $D(x) = 1$

Infatti la retta $y = x$ ha coefficiente angolare $m = 1$ e in ogni x_0 la tangente coincide con il grafico di $f(x)$.

- Derivata di $f(x) = \text{sen}x$

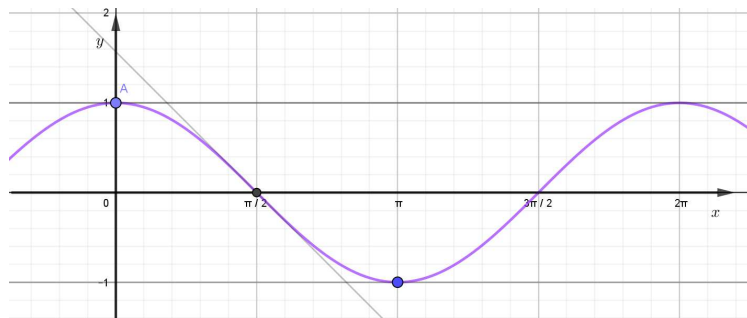
Osservando l'andamento delle tangenti alla funzione $y = \text{sen}x$ ci accorgiamo che

$$y'(0) = 1, \quad y'\left(\frac{\pi}{2}\right) = 0, \quad y'(\pi) = -1, \quad \text{ecc. e si può dimostrare che } D(\text{sen}x) = \text{cos}x$$



Derivate

- Derivata di $f(x) = \cos x$: si osserva che $y'(0) = 0$, $y'\left(\frac{\pi}{2}\right) = -1$, $y'(\pi) = 0$, ecc.



Si può dimostrare che

$$D(\cos x) = -\sin x$$

- Derivata di $f(x) = \ln x$

Si può dimostrare che

$$D(\ln x) = \frac{1}{x}$$

e in generale:

$$D(\log_a x) = \frac{1}{x} \log_a e$$

Esempio: $D(\log_2 x) = (\log_2 e) \cdot \frac{1}{x}$

- Derivata di $f(x) = e^x$

Si può dimostrare che

$$D(e^x) = e^x$$

e in generale:

$$D(a^x) = a^x \cdot \ln a$$

Esempio: $D(2^x) = (\ln 2) \cdot 2^x$

Ricapitolando:

$$D(k) = 0$$

$$D(x) = 1$$

$$D(\sin x) = \cos x$$

$$D(\cos x) = -\sin x$$

$$D(\ln x) = \frac{1}{x} ; D(\log_a x) = \frac{1}{x} \log_a e$$

$$D(e^x) = e^x ; D(a^x) = a^x \ln a$$

Regole di derivazione

Derivata della somma di due funzioni

Calcoliamo:

$$\begin{aligned}\lim_{x \rightarrow x_0} \frac{[f(x) + g(x)] - [f(x_0) + g(x_0)]}{x - x_0} &= \lim_{x \rightarrow x_0} \frac{f(x) - f(x_0)}{x - x_0} + \frac{g(x) - g(x_0)}{x - x_0} \\ &= f'(x_0) + g'(x_0)\end{aligned}$$

Quindi

$$\boxed{D(f(x) + g(x)) = D(f(x)) + D(g(x))}$$

Naturalmente questa regola vale anche per la somma di più di due funzioni.

Esempio:

$$D(x + \operatorname{sen} x + 2) = D(x) + D(\operatorname{sen} x) + D(2) = 1 + \operatorname{cos} x$$

Derivata del prodotto di due funzioni

$$\begin{aligned}\lim_{x \rightarrow x_0} \frac{f(x)g(x) - f(x_0)g(x_0)}{x - x_0} &= (\text{si somma e si sottrae } f(x_0)g(x)) \\ \lim_{x \rightarrow x_0} \frac{f(x)g(x) - f(x_0)g(x) + f(x_0)g(x) - f(x_0)g(x_0)}{x - x_0} &= \\ \lim_{x \rightarrow x_0} \frac{f(x) - f(x_0)}{x - x_0}g(x) + f(x_0)\frac{g(x) - g(x_0)}{x - x_0} &= f'(x_0)g(x_0) + f(x_0)g'(x_0)\end{aligned}$$

Nota: $f(x)$ e $g(x)$ essendo per ipotesi derivabili in x_0 sono anche continue e quindi

$$\lim_{x \rightarrow x_0} g(x) = g(x_0).$$

Quindi

$$\boxed{D(f(x) \cdot g(x)) = D(f(x)) \cdot g(x) + f(x) \cdot D(g(x))}$$

Esempio:

$$D(x \cdot \operatorname{sen} x) = D(x)\operatorname{sen} x + xD(\operatorname{sen} x) = \operatorname{sen} x + x \cdot \operatorname{cos} x$$

Nota

In particolare

$$D(kf(x)) = kD(f(x))$$

Infatti

$$D(kf(x)) = D(k)f(x) + kD(f(x)) = kD(f(x))$$

Questa regola si può estendere al prodotto di più di due funzioni e risulta:

$$D(f \cdot g \cdot h) = D(f) \cdot g \cdot h + f \cdot D(g) \cdot h + f \cdot g \cdot D(h)$$

Infatti:

$$\begin{aligned} D(f \cdot g \cdot h) &= D(f \cdot (gh)) = D(f) \cdot gh + f \cdot D(gh) = D(f) \cdot gh + f[D(g) \cdot h + g \cdot D(h)] \\ &= D(f)gh + f \cdot D(g) \cdot h + f \cdot g \cdot D(h) \end{aligned}$$

Esempio:

$$D(x \cdot \operatorname{sen} x \cdot \operatorname{cos} x) = 1 \cdot \operatorname{sen} x \cdot \operatorname{cos} x + x \cdot \operatorname{cos} x \cdot \operatorname{cos} x + x \cdot \operatorname{sen} x (-\operatorname{sen} x)$$

- In particolare $D(x^n) = nx^{n-1}$ poiché:

$$D(x^n) = D\left(\underbrace{x \cdot x \cdots x}_{n \text{ volte}}\right) = 1 \cdot \underbrace{x \cdots x}_{n-1 \text{ volte}} + \underbrace{x \cdot 1 \cdots x}_{n-1 \text{ volte}} + \cdots + \underbrace{x \cdots x \cdot 1}_{n-1 \text{ volte}} = nx^{n-1}$$

e

$$D(f^n(x)) = nf^{n-1}(x)f'(x)$$

Poiché

$$\begin{aligned} D(f^n(x)) &= D\left(\underbrace{f(x) \cdot f(x) \cdots f(x)}_{n \text{ volte}}\right) = \\ &= f'(x) \cdot \underbrace{f(x) \cdots f(x)}_{n-1 \text{ volte}} + \underbrace{f(x) \cdot f'(x) \cdots f(x)}_{n-1 \text{ volte}} + \cdots + \underbrace{f(x) \cdots f(x) \cdot f'(x)}_{n-1 \text{ volte}} = nf^{n-1}(x)f'(x) \end{aligned}$$

Esempi

$$D(x^3) = 3x^2$$

$$D(\operatorname{sen}^3(x)) = 3\operatorname{sen}^2 x \cdot \operatorname{cos} x$$

$$D(\ln^2 x) = 2\ln x \cdot \frac{1}{x}$$

$$D(\operatorname{cos}^4 x) = 4\operatorname{cos}^3 x (-\operatorname{sen} x)$$

$$D(x^5) = 5x^4$$

Derivata della funzione reciproca di $f(x)$ ($f(x) \neq 0$)

$$\begin{aligned} \lim_{x \rightarrow x_0} \frac{\frac{1}{f(x)} - \frac{1}{f(x_0)}}{x - x_0} &= \lim_{x \rightarrow x_0} \frac{\frac{f(x_0) - f(x)}{f(x)f(x_0)}}{x - x_0} = \lim_{x \rightarrow x_0} - \left[\frac{f(x) - f(x_0)}{x - x_0} \right] \frac{1}{f(x)f(x_0)} \\ &= (f(x) \text{ è continua in } x_0) = -\frac{f'(x_0)}{f^2(x_0)} \end{aligned}$$

Quindi:

$$\boxed{D\left(\frac{1}{f(x)}\right) = -\frac{f'(x)}{f^2(x)}}$$

Esempi:

$$1) \quad D\left(\frac{1}{x}\right) = -\frac{1}{x^2}$$

$$2) \quad D\left(\frac{1}{\sin x}\right) = -\frac{\cos x}{\sin^2 x}$$

In particolare

$$a) \quad D(x^{-n}) = D\left(\frac{1}{x^n}\right) = -\frac{nx^{n-1}}{x^{2n}} = -nx^{n-1-2n} = -nx^{-n-1}$$

Quindi $\boxed{D(x^k) = kx^{k-1}}$ con $k \in \mathbb{Z}$

Esempio:

$$D(x^{-2}) = -2x^{-3}$$

$$b) \quad D(f^{-n}(x)) = D\left(\frac{1}{f^n(x)}\right) = -\frac{nf^{n-1}(x)f'(x)}{f^{2n}(x)} = -nf^{-n-1}(x)f'(x)$$

Quindi $\boxed{D(f^k(x)) = kf^{k-1}(x)f'(x)}$ con $k \in \mathbb{Z}$

Esempio:

$$D(\sin^{-2} x) = -2\sin^{-3} x \cdot \cos x$$

Derivata del quoziente di due funzioni

$$D\left(\frac{f(x)}{g(x)}\right) = D\left(f(x) \cdot \frac{1}{g(x)}\right) = f'(x) \cdot \frac{1}{g(x)} + f(x) \cdot \left(-\frac{g'(x)}{g^2(x)}\right) = \frac{f'(x)g(x) - f(x)g'(x)}{g^2(x)}$$

Quindi:

$$\boxed{D\left(\frac{f(x)}{g(x)}\right) = \frac{D(f(x))g(x) - f(x)D(g(x))}{g^2(x)}}$$

Esempi:

$$1) \quad D(\operatorname{tg} x) = D\left(\frac{\operatorname{sen} x}{\operatorname{cos} x}\right) = \frac{\operatorname{cos} x \cdot \operatorname{cos} x - \operatorname{sen} x \cdot (-\operatorname{sen} x)}{\operatorname{cos}^2 x} = \frac{1}{\operatorname{cos}^2 x}$$

$$2) \quad D(\operatorname{cot} x) = D\left(\frac{\operatorname{cos} x}{\operatorname{sen} x}\right) = \frac{-\operatorname{sen} x \cdot \operatorname{sen} x - \operatorname{cos} x \cdot \operatorname{cos} x}{\operatorname{sen}^2 x} = -\frac{1}{\operatorname{sen}^2 x}$$

$$3) \quad D\left(\frac{x-2}{x^2+1}\right) = \frac{D(x-2) \cdot (x^2+1) - (x-2) \cdot D(x^2+1)}{(x^2+1)^2} = \frac{x^2+1 - (x-2) \cdot (2x)}{(x^2+1)^2} = \frac{-x^2+4x+1}{(x^2+1)^2}$$

Nota

La derivata di $f(x) = \operatorname{tg} x$ può anche essere scritta $D(\operatorname{tg} x) = 1 + \operatorname{tg}^2 x$.

Infatti:

$$D(\operatorname{tg} x) = \frac{1}{\operatorname{cos}^2 x} = \frac{\operatorname{cos}^2 x + \operatorname{sen}^2 x}{\operatorname{cos}^2 x} = 1 + \operatorname{tg}^2 x$$

La derivata di $f(x) = \operatorname{cot} x$ si può scrivere anche così:

$$D(\operatorname{cot} x) = -\frac{1}{\operatorname{sen}^2 x} = \frac{-\operatorname{sen}^2 x - \operatorname{cos}^2 x}{\operatorname{sen}^2 x} = -1 - \operatorname{cot}^2 x$$

ESERCIZI
REGOLE DI DERIVAZIONE

Calcola la derivata delle seguenti funzioni:

- | | | |
|-----|---|---|
| 1. | $D(2x + \operatorname{tg} x)$ | $\left[2 + \frac{1}{\cos^2 x} \right]$ |
| 2. | $D\left(\frac{x+2}{x}\right)$ | $\left[-\frac{2}{x^2} \right]$ |
| 3. | $D(x \ln x)$ | $[\ln x + 1]$ |
| 4. | $D(2^x + 1)$ | $[2^x \cdot \ln 2]$ |
| 5. | $D(x^3 + 2x - 3)$ | $[3x^2 + 2]$ |
| 6. | $D\left(\frac{x^2+1}{x}\right)$ | $\left[\frac{x^2-1}{x^2} \right]$ |
| 7. | $D\left(\frac{2}{x}\right)$ | $\left[-\frac{2}{x^2} \right]$ |
| 8. | $D\left(\frac{1}{\ln x}\right)$ | $\left[-\frac{1}{x \cdot \ln^2 x} \right]$ |
| 9. | $D\left(\frac{1}{(x+3)^2}\right)$ | $\left[-\frac{1}{(x+3)^3} \right]$ |
| 10. | $D(\log_2^3 x)$ | $\left[3 \log_2^2 x \cdot \frac{1}{x} \log_2 e \right]$ |
| 11. | $D(\operatorname{sen} x + \cos x)$ | $[\cos x - \operatorname{sen} x]$ |
| 12. | $D\left(\frac{1}{\operatorname{sen} x + \cos x}\right)$ | $\left[-\frac{\cos x - \operatorname{sen} x}{(\operatorname{sen} x + \cos x)^2} \right]$ |
| 13. | $D\left(\frac{1}{x^2}\right)$ | $\left[-\frac{2}{x^3} \right]$ |
| 14. | $D\left(\frac{2}{\operatorname{sen} x}\right)$ | $\left[-\frac{2 \cos x}{\operatorname{sen}^2 x} \right]$ |
| 15. | $D(2 \cos x + \operatorname{sen} x)$ | $[-2 \operatorname{sen} x + \cos x]$ |
| 16. | $D\left(\frac{5+x}{2x}\right)$ | $\left[-\frac{5}{2x^2} \right]$ |

Derivate

17. $D\left(\frac{x}{3-x}\right)$ $\left[\frac{3}{(3-x)^2}\right]$
18. $D(x^4 - 3x^2 - 4)$ $[4x^3 - 6x]$
19. $D\left(\frac{1}{3}x^3 + \frac{1}{2}x^2\right)$ $[x^2 + x]$
20. $D(\text{sen } x \cdot \cos x)$ $[\cos^2 x - \text{sen}^2 x]$
21. $D\left(\text{tg } x + \frac{\pi}{2}\right)$ $\left[\frac{1}{\cos^2 x}\right]$
22. $D\left(1 - \frac{1}{x^2}\right)$ $\left[\frac{2}{x^3}\right]$
23. $D(e^x + 2)$ $[e^x]$
24. $D(x^3 + 2x + 4)$ $[3x^2 + 2]$
25. $D(x \cdot e^x)$ $[e^x + x \cdot e^x]$
26. $D((x+1)^3)$ $[3(x+1)^2]$
27. $D((2x-1)^4)$ $[8 \cdot (2x-1)^3]$
28. $D(\log_3 x)$ $\left[\frac{1}{x} \cdot \log_3 e\right]$
29. $D\left(\frac{x-1}{x}\right)$ $\left[\frac{1}{x^2}\right]$
30. $D\left(\frac{1}{e^x}\right)$ $\left[-\frac{1}{e^x}\right]$

Derivata di una funzione composta

Si può dimostrare che:

$$\boxed{D(f(g(x))) = f'(g(x)) \cdot g'(x)}$$

Esempi

$$a) D(\text{sen}(2x)) = \cos(2x) \cdot 2 = 2 \cdot \cos(2x)$$

$$b) D(\ln(x^2 + 1)) = \frac{1}{x^2+1} \cdot 2x$$

$$c) D(\ln(\text{sen}3x)) = \frac{1}{\text{sen}3x} \cdot \cos3x \cdot 3 = 3 \cotg3x$$

$$d) D\left(e^{\frac{1}{x}}\right) = e^{\frac{1}{x}} \left(-\frac{1}{x^2}\right)$$

$$e) D(\cos(3x)) = -\text{sen}(3x) \cdot 3 = -3\text{sen}(3x)$$

$$f) D(\text{tg}(3x)) = \frac{1}{\cos^2(3x)} \cdot 3 = \frac{3}{\cos^2(3x)}$$

$$g) D(2^{3x}) = 2^{3x} \cdot \ln 2 \cdot 3 = 3 \cdot \ln 2 \cdot 2^{3x}$$

$$h) D(\log_2(3x)) = \frac{1}{3x} \cdot \log_2 e \cdot 3 = \frac{\log_2 e}{x}$$

ESERCIZI

DERIVATA DI UNA FUNZIONE COMPOSTA

- 1) $D(\ln 3x)$ [$\frac{1}{x}$]
- 2) $D(\text{sen} 4x)$ [$4 \cdot \cos 4x$]
- 3) $D(\cos^3 2x)$ [$-6\cos^2 2x \cdot \text{sen} 2x$]
- 4) $D(\ln^2(4x+1))$ [$\frac{8\ln(4x+1)}{4x+1}$]
- 5) $D(e^{\frac{x-1}{x}})$ [$e^{\frac{x-1}{x}} \cdot \frac{1}{x^2}$]
- 6) $D(\ln(\frac{x}{x^2+1}))$ [$\frac{1-x^2}{x(1+x^2)}$]
- 7) $D(2^{x^2+1})$ [$\ln 2 \cdot 2^{x^2+1} \cdot 2x$]
- 8) $D(\text{sen} 2x)$ [$2 \cos 2x$]
- 9) $D(\ln(\frac{2}{x+1}))$ [$-\frac{1}{x+1}$]
- 10) $D(e^{\frac{x}{x-3}})$ [$-\frac{3}{(x-3)^2} \cdot e^{\frac{x}{x-3}}$]
- 11) $D(4^{2x+1})$ [$2 \cdot \ln 4 \cdot 4^{2x+1}$]
- 12) $D(\ln(\frac{x^2-1}{x}))$ [$\frac{x^2+1}{x(x^2-1)}$]
- 13) $D(\cos 2x)$ [$-2\text{sen} 2x$]
- 14) $D(\text{tg} 2x)$ [$\frac{2}{\cos^2 2x}$]
- 15) $D(e^{x^2+1})$ [$2x \cdot e^{x^2+1}$]

NOTA IMPORTANTE

Utilizzando la derivata di una funzione composta si può dimostrare che per $\alpha \in \mathfrak{R}$ si ha

$$\boxed{D(f^\alpha(x)) = \alpha \cdot f^{\alpha-1}(x) \cdot f'(x)}$$

e in particolare

$$\boxed{D(x^\alpha) = \alpha x^{\alpha-1}}$$

Quindi per $\alpha = \frac{1}{2}$ avremo:

$$D(\sqrt{x}) = D\left(x^{\frac{1}{2}}\right) = \frac{1}{2} x^{-\frac{1}{2}} = \frac{1}{2\sqrt{x}}$$

$$D(\sqrt{f(x)}) = D\left(f(x)^{\frac{1}{2}}\right) = \frac{1}{2} f(x)^{-\frac{1}{2}} f'(x) = \frac{f'(x)}{2\sqrt{f(x)}}$$

Cioè

$$\boxed{D(\sqrt{x}) = \frac{1}{2\sqrt{x}}}$$

$$\boxed{D(\sqrt{f(x)}) = \frac{f'(x)}{2\sqrt{f(x)}}$$

Esempi

$$\text{a) } D(\sqrt{x^2+1}) = \frac{2x}{2 \cdot \sqrt{x^2+1}} = \frac{x}{\sqrt{x^2+1}}$$

$$\text{b) } D(\sqrt{x^3+2}) = \frac{3x^2}{2 \cdot \sqrt{x^3+2}}$$

$$\text{c) } D(\sqrt[3]{x}) = D\left(x^{\frac{1}{3}}\right) = \frac{1}{3} \cdot x^{-\frac{2}{3}} = \frac{1}{3 \cdot \sqrt[3]{x^2}}$$

$$\text{d) } D(\sqrt[4]{x^3}) = D\left(x^{\frac{3}{4}}\right) = \frac{3}{4} \cdot x^{-\frac{1}{4}} = \frac{3}{4 \cdot \sqrt[4]{x}}$$

Ricapitolando

$$D(f(x) + g(x)) = D(f(x)) + D(g(x))$$

$$D(f(x) \cdot g(x)) = D(f(x)) \cdot g + f(x) \cdot D(g(x))$$

$$D\left(\frac{1}{f(x)}\right) = -\frac{f'(x)}{f^2(x)}$$

$$D\left(\frac{f(x)}{g(x)}\right) = \frac{D(f) \cdot g - f \cdot D(g)}{g^2(x)}$$

$$D(f(g(x))) = f'(g(x)) \cdot g'(x)$$

In particolare:

$$D(kf(x)) = k \cdot D(f(x))$$

$$D(x^\alpha) = \alpha x^{\alpha-1} \quad (\alpha \in \mathbb{R})$$

$$D(f(x)^\alpha) = \alpha \cdot f(x)^{\alpha-1} \cdot f'(x) \quad (\alpha \in \mathbb{R})$$

$$\text{Se } \alpha = \frac{1}{2} \quad D(\sqrt{x}) = \frac{1}{2\sqrt{x}}$$

$$D(\sqrt{f(x)}) = \frac{f'(x)}{2\sqrt{f(x)}}$$

$$D(\ln f(x)) = \frac{f'(x)}{f(x)}$$

$$D(\operatorname{tg}x) = \frac{1}{\cos^2 x} = 1 + \operatorname{tg}^2 x$$

$$D(\operatorname{cotg}x) = -\frac{1}{\operatorname{sen}^2 x} = -1 - \operatorname{cotg}^2 x$$

Nota

Si può dimostrare che le derivate delle funzioni inverse delle funzioni goniometriche risultano:

$$D(\operatorname{arcsen}x) = \frac{1}{\sqrt{1-x^2}}$$

$$D(\operatorname{arccos}x) = -\frac{1}{\sqrt{1-x^2}}$$

$$D(\operatorname{arctg}x) = \frac{1}{1+x^2}$$

$$D(\operatorname{arccotg}x) = -\frac{1}{1+x^2}$$

ESERCIZI DI RICAPITOLAZIONE
DERIVATE

- 1) $D(\operatorname{arctg} 2x)$ $\left[\frac{2}{1+4x^2} \right]$
- 2) $D\left(\operatorname{arct}\left(\frac{1}{x}\right)\right)$ $\left[-\frac{1}{x^2+1} \right]$
- 3) $D(\sqrt{\operatorname{sen} x + \operatorname{cos} x})$ $\left[\frac{\operatorname{cos} x - \operatorname{sen} x}{2\sqrt{\operatorname{sen} x + \operatorname{cos} x}} \right]$
- 4) $D(3x + \operatorname{cotg} x)$ $\left[3 - \frac{1}{\operatorname{sen}^2 x} \right]$
- 5) $D\left(\frac{2}{x} + \ln x\right)$ $\left[\frac{x-2}{x^2} \right]$
- 6) $D(2 \cos^3 x)$ $\left[-6 \operatorname{sen} x \cos^2 x \right]$
- 7) $D(x \cdot \ln^3 x)$ $\left[\ln^3 x + 3 \ln^2 x \right]$
- 8) $D\left(\frac{\operatorname{sen} x - \operatorname{cos} x}{\operatorname{cos} x + 1}\right)$ $\left[\frac{\operatorname{sen} x + \operatorname{cos} x + 1}{(\operatorname{cos} x + 1)^2} \right]$
- 9) $D\left(\frac{x}{x^3 + 1}\right)$ $\left[\frac{-2x^3 + 1}{(x^3 + 1)^2} \right]$
- 10) $D(\sqrt{e^{x-2}})$ $\left[\frac{e^{x-2}}{2\sqrt{e^{x-2}}} \right]$
- 11) $D\left(\frac{1}{\operatorname{sen}^2 x}\right)$ $\left[-\frac{2 \operatorname{cos} x}{\operatorname{sen}^3 x} \right]$
- 12) $D\left(\frac{\operatorname{sen} x}{2 \operatorname{cos} x - 1}\right)$ $\left[\frac{\operatorname{cos} x (2 \operatorname{cos} x - 1) + 2 \operatorname{sen}^2 x}{(2 \operatorname{cos} x - 1)^2} \right]$
- 13) $D(\operatorname{arctg}(2x+1))$ $\left[\frac{2}{1+(2x+1)^2} \right]$
- 14) $D\left(\frac{e^x + 1}{2 - e^x}\right)$ $\left[\frac{3e^x}{(2 - e^x)^2} \right]$

Problemi

1) Data la parabola di equazione $y = 2x^2 - x + 1$ determina l'equazione della retta tangente alla parabola nel suo punto $T(0; 1)$ e disegna parabola e tangente.

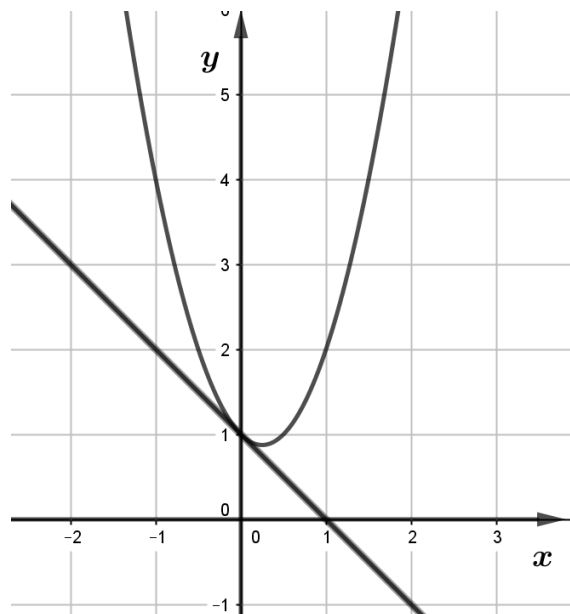
Svolgimento

Possiamo determinare la funzione derivata $y' = 4x - 1$ e poi calcolarla in $x = 0$:

$$y'(0) = -1$$

Quindi la retta tangente in $x = 0$ ha inclinazione $m = -1$ e poiché passa per T avrà equazione:

$$y - 1 = -1(x - 0) \rightarrow y = -x + 1$$



2) Data la funzione omografica $\mathfrak{S} : y = \frac{2x}{x-1}$, determina la retta tangente nell'origine. Disegna sia la funzione omografica che la tangente.

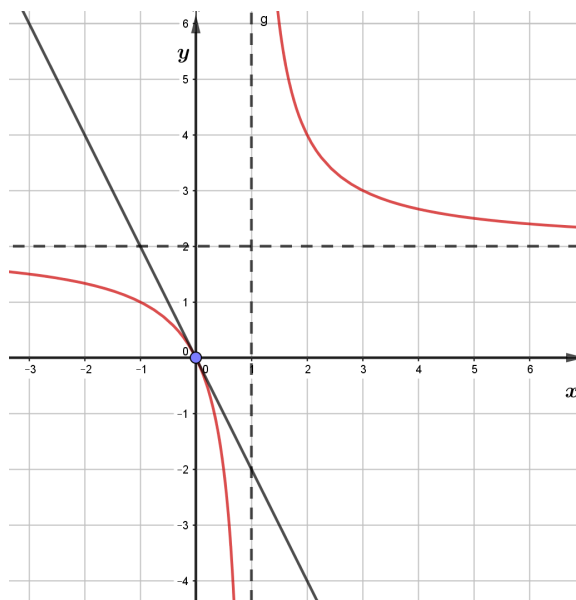
Svolgimento

Determiniamo la derivata della funzione

$$D\left(\frac{2x}{x-1}\right) = \frac{2(x-1) - 2x}{(x-1)^2} = -\frac{2}{(x-1)^2}$$

e calcoliamola in $x = 0$: $y'(0) = -2$ per determinare il coefficiente angolare della tangente al grafico nel punto $(0;0)$.

Quindi l'equazione della tangente sarà: $y = -2x$.



Derivate successive di una funzione

Come abbiamo definito la funzione derivata di $f(x)$, possiamo definire la funzione derivata di $f'(x)$, che indicheremo con $f''(x)$ e chiameremo derivata seconda di $f(x)$ e così via.

Esempio1

$$f(x) = x^4 + 2x^3 + 1$$

$$f'(x) = 4x^3 + 6x^2$$

$$D(f'(x)) = f''(x) = 12x^2 + 12x$$

$$D(f''(x)) = f'''(x) = 24x + 12$$

$$D(f'''(x)) = f^{(4)}(x) = 24$$

$$D(f^{(4)}(x)) = f^{(5)}(x) = 0$$

Osserviamo che $f(x)$ è un polinomio di grado 4:

$$f^{(n)}(x) \equiv 0 \quad \forall n \geq 5$$

Analogamente se $f(x)$ è un polinomio di grado k si avrà:

$$f^{(n)}(x) \equiv 0 \quad \forall n \geq k + 1$$

Esempio2

$$f(x) = \sin x$$

$$f'(x) = \cos x$$

$$f''(x) = -\sin x$$

$$f'''(x) = -\cos x$$

$$f^{(4)}(x) = \sin x$$

.....

Esempio 3

$$f(x) = e^x$$

$$f'(x) = e^x$$

$$f''(x) = e^x$$

.....

Significati della derivata in fisica

Due fondamentali concetti della cinematica di un punto materiale sono basati sulla derivata: la *velocità* e l'*accelerazione*.

Supponiamo di considerare un punto materiale P che si muove su una traiettoria rettilinea con legge oraria $s = s(t)$.

La velocità istantanea di P all'istante t_0 risulta:

$$v(t_0) = \lim_{t \rightarrow t_0} \frac{s(t) - s(t_0)}{t - t_0} = s'(t_0)$$

L'accelerazione istantanea di P all'istante t_0 risulta:

$$a(t_0) = \lim_{t \rightarrow t_0} \frac{v(t) - v(t_0)}{t - t_0} = v'(t_0) = s''(t_0)$$

Esempi

1. Se consideriamo $s(t) = v_0 t + \frac{1}{2} a t^2$ (*moto uniformemente accelerato*) troviamo:

$$v(t) = s'(t) = v_0 + at$$

$$a(t) = v'(t) = a$$

2. Se considero $s(t) = s_0 \sin \omega t$ (*moto armonico*)

$$v(t) = s'(t) = \omega s_0 \cos \omega t$$

$$a(t) = v'(t) = -\omega^2 s_0 \sin \omega t$$

come abbiamo visto studiando il moto armonico.

SCHEDA DI VERIFICA 1

DERIVATE

1) Calcola la derivata delle seguenti funzioni:

a) $y = \ln(3x - 1)$

e) $y = e^{4x+1}$

b) $y = \frac{\cos x - 3\operatorname{sen}x}{1 + \operatorname{sen}x}$

f) $y = \operatorname{arctg} \frac{x}{3}$

c) $y = \sqrt{1 - e^{2-x}}$

g) $y = \frac{x^2 + 1}{x - 2}$

d) $y = 3^{\frac{1}{x}}$

h) $y = \operatorname{sen}(2x + 1)$

2) Per ciascuna delle seguenti funzioni determina dominio, asintoti, punti di discontinuità, derivata e disegna il grafico.

a) $f(x) = \frac{2 - x}{x - 4}$

b) $f(x) = \sqrt{9x^2 - 1}$

Problemi

- 1) Disegna la funzione omografica \mathfrak{S} di equazione $y = \frac{2x}{x+1}$ e la parabola di equazione $y = 2x - x^2$. Verifica che in $(0,0)$ hanno la stessa tangente e determina l'equazione della tangente comune.
- 2) Disegna la parabola $y = x^2 - 2x$ e determina la tangente in $(0;0)$. Determina anche la tangente alla parabola nel suo punto di ascissa $x = 2$.
- 3) Considera un punto materiale che si muove di moto armonico con legge oraria $s(t) = 3\operatorname{sen}(2\pi \cdot t)$. Determina la sua velocità e la sua accelerazione al tempo $t = 1$ (s).

SCHEDA DI VERIFICA 2

DERIVATE

1. Calcola la derivata delle seguenti funzioni:

a. $D(\text{sen}x \cdot \cos x)$

b. $D\left(\frac{1}{\cos x}\right)$

c. $D\left(\frac{3-x}{x+1}\right)$

d. $D(\ln^3(1-2x))$

e. $D(\sqrt{1-x})$

f. $D(\sqrt{\ln x - 1})$

g. $D(e^{2x} - 1)$

h. $D(\text{sen}4x)$

2. Per ciascuna delle seguenti funzioni determina dominio, asintoti, punti di discontinuità, derivata e disegna il grafico:

a. $y = \frac{1}{x-1}$

b. $f(x) = \sqrt{x^2 - 1}$

Problemi

1) Disegna la parabola $y = 4x - x^2$ e determina l'equazione della tangente in (0;0). Come risulta l'equazione della tangente nel punto (4;0)?

2) Disegna il grafico della funzione $y = \frac{1}{x-2}$ e determina l'equazione della tangente nel suo punto di ascissa $x = 3$. Disegna la funzione e la tangente.

3) Un punto materiale si muove con legge oraria $s(t) = t^3$. Determina la sua velocità e accelerazione all'istante $t = 1$ (s).